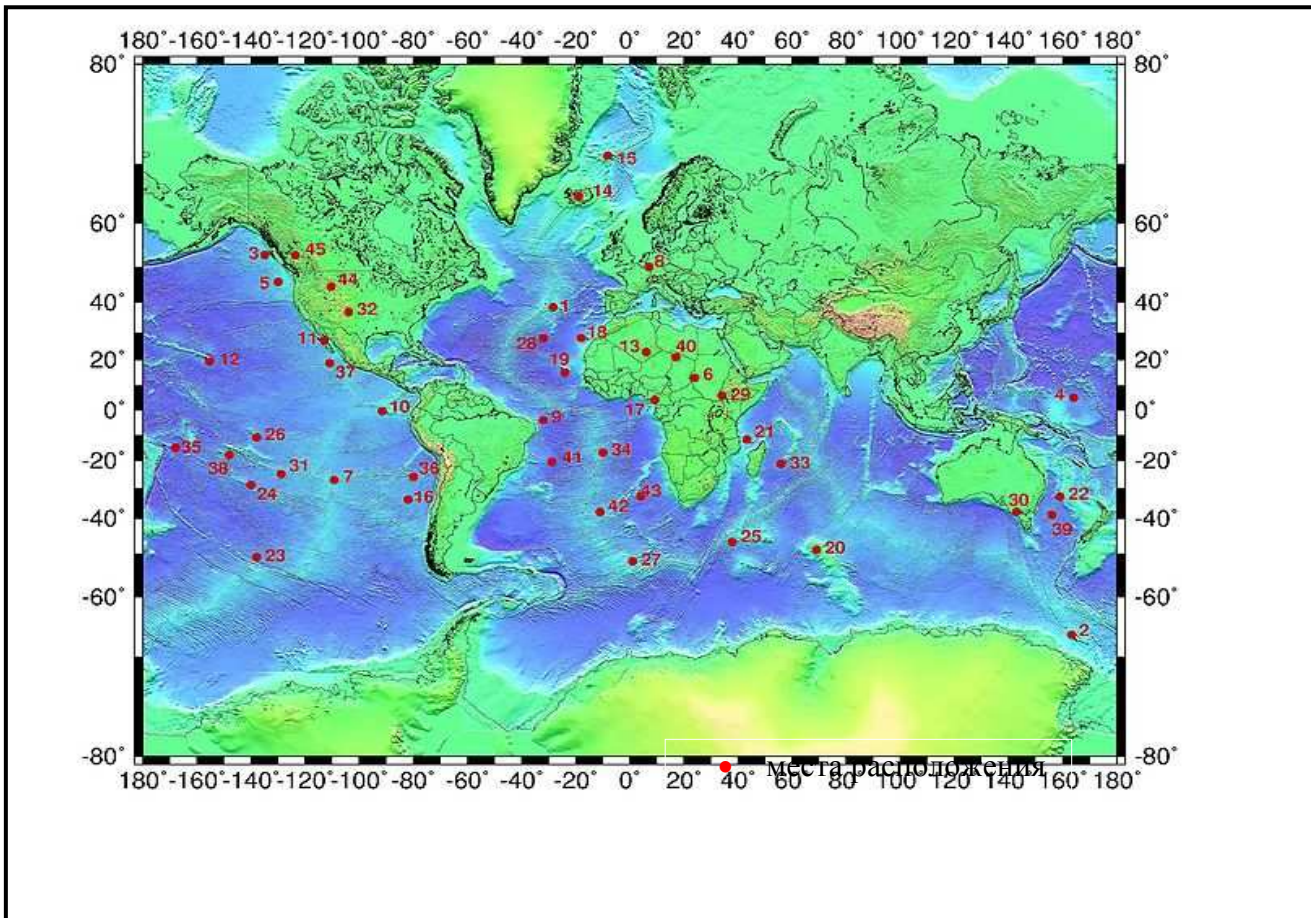


ВОПРОСЫ ДЛЯ 10-12 КЛАССОВ *Имя и фамилия*
Школа Класс.....
Учитель географии.....

1. Как повлияли горы на формирование современной политической и экономической карты Европы?

3 б

2. Места расположения какого природного явления показаны на карте? 1 б



Проанализируй последствия этого природного явления. 4 б

Последствия	Положительные	Отрицательные
Природные		
Экономические		

3. Перечисли природные факторы, которые делают покорение самых высоких точек Земного шара, «восьмитысячников», даже в наше время очень сложным, требующим большого мужества предприятием? 2 б

a)..... b)..... c).....
..... d).....

4. Почему жители одной страны могут утверждать, что: „Зандры образуются у нас и сейчас, а слово «зандр» попало в геоморфологическую терминологию из нашего языка.” 4 б

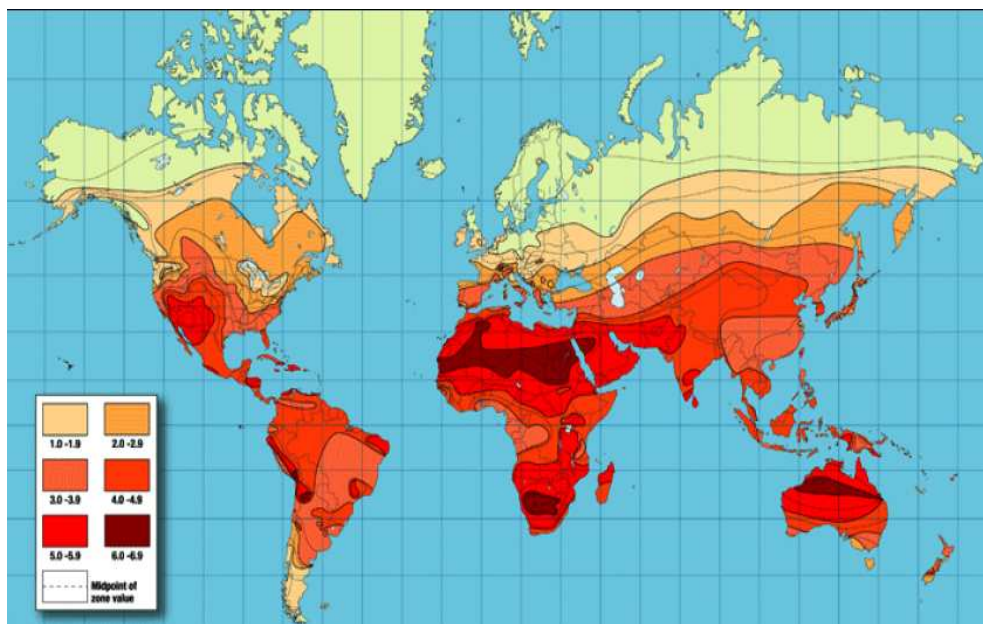
Эта страна Объяснение:
.....
.....

Почему в Эстонии зандры желтоватого цвета, а в этой стране черные?

.....
.....

5. На рисунке показаны возможности использования одного из видов альтернативной энергии. 3 б

Какой? Обоснуй свое решение
.....
.....



Почему на юге Канады этой энергии больше, чем на тех же широтах на юге Швеции?
2 б

6. Чем можно объяснить различия в сети шоссейных и железных дорог Европы и Северной Америки? 2 б

.....
.....
.....

7. Какие экономико-географические объекты скрываются за этими названиями? 3 б

Набукко, Норд Стрим, Сауз Стрим -

Чем отличается Набукко от двух других?

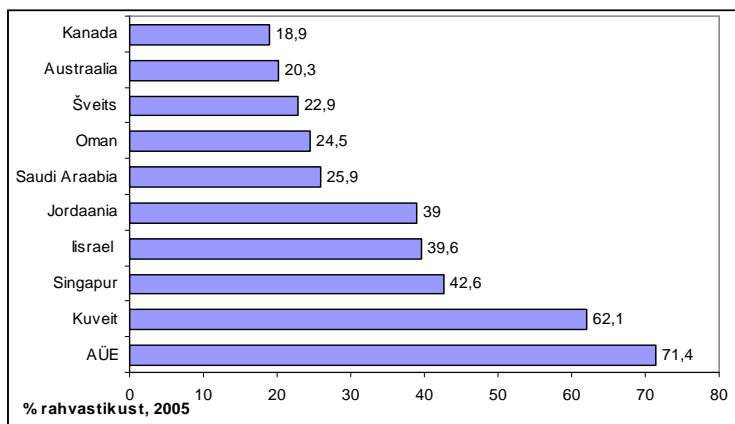
.....

.....

.....

8. Напиши подходящее название для этой диаграммы, наиболее точно отражающее принцип распределения стран. 1 б

Канада Австралия Швейцария Оман Саудовская Аравия Иордания Израиль Сингапур Кувейт ОАЭ
% от всего населения. Почему в ОАЭ этот показатель так высок? 2 б



9. Почему Западной Европе легче было пережить демографический взрыв в 17–18 веках, чем развивающимся странам в 20 веке? 2 б

.....

.....

.....

10. Крупнейший порт Европы – Укажи природные и экономические предпосылки формирования крупнейшего порта именно в этом городе. 3 б

.....

.....

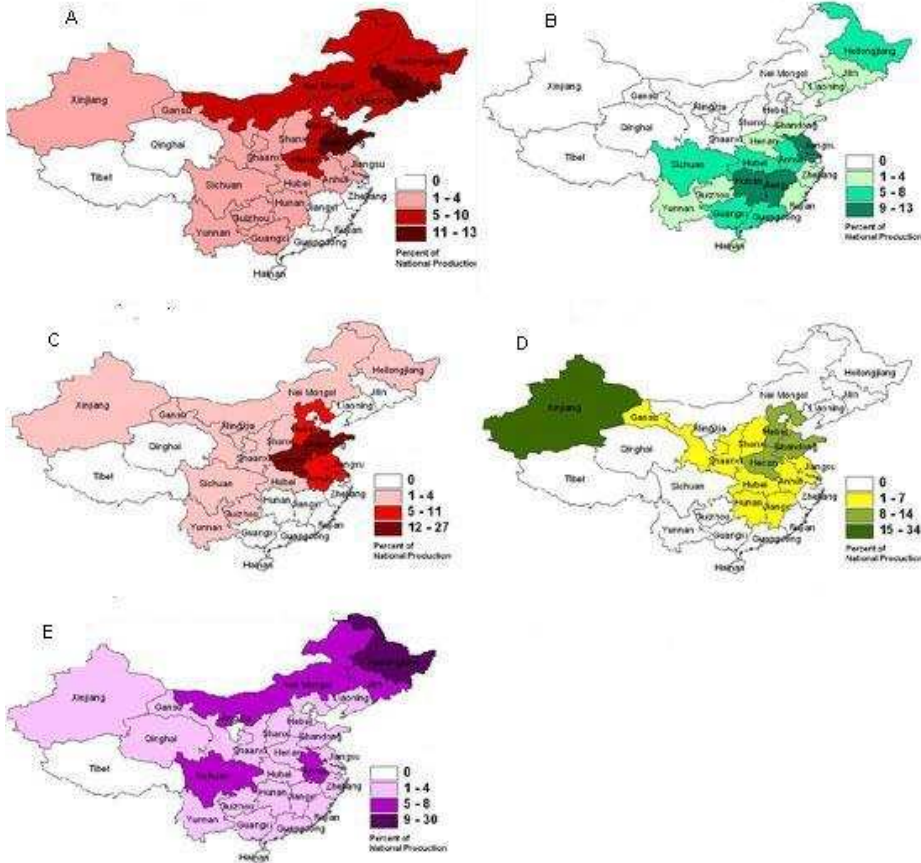
.....

11. Прикаспийские государства обладают большими запасами нефти и газа. Какова особенность географического положения этих стран в сравнении с другими странами, производителями нефти? 2 б

.....

.....

12. Китай – крупный производитель продуктов растениеводства. На картах показаны районы выращивания пяти основных полевых культур Китая: хлопка, сои, кукурузы, пшеницы, риса.



Какая карта, какой культуре соответствует? 2,5 б

A B C

D E

Обоснуй свои решения:

3 б

.....

.....

.....

.....

Какое утверждение о Китае правильно, какое нет? Обведи свое решение кружком.

1,5 б

- | | |
|--|--------|
| 1) Китай мировой лидер производства кукурузы | Да/Нет |
| 2) Китай мировой лидер производства пшеницы | Да/Нет |
| 3) Китай мировой лидер производства и экспорта чая | Да/Нет |

13. Какие принципы (методы) используются в сберегающем земледелии? 4 б

- 1)
- 2).....
- 3)
- 4)

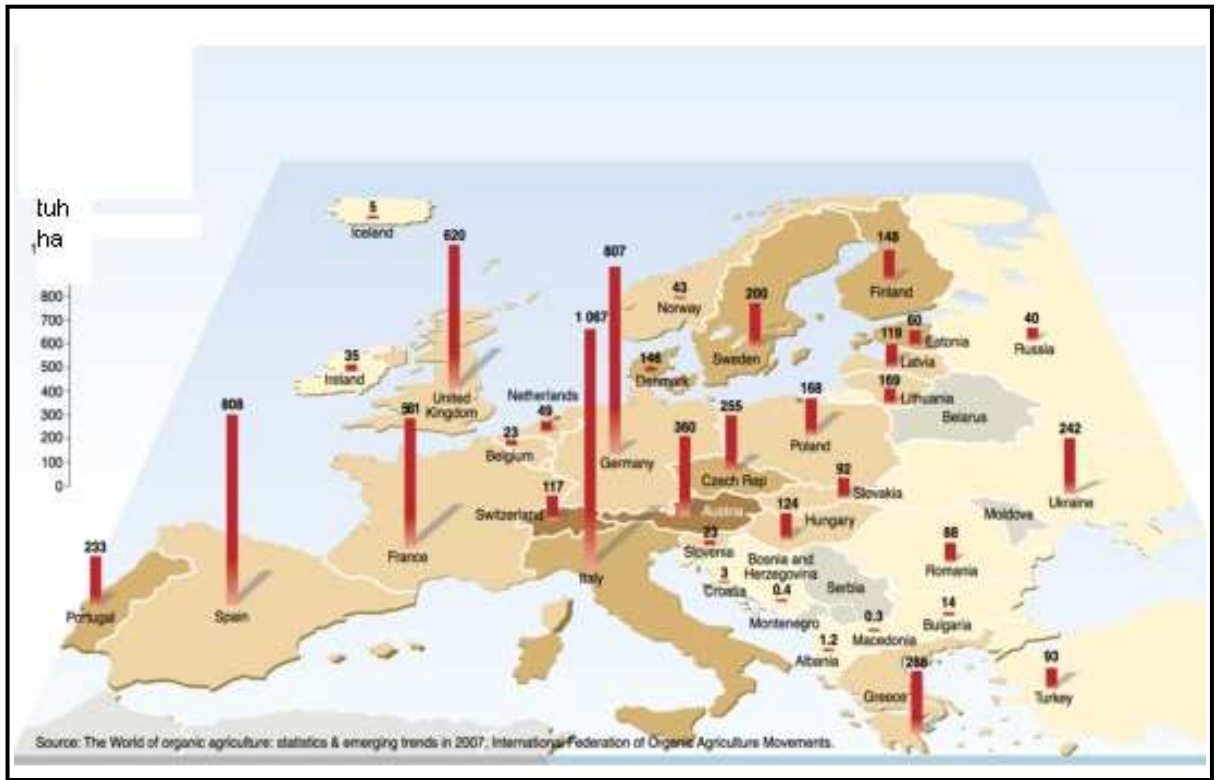
Назови два государства, в которых доля сберегающего земледелия от общей площади посевных земель наиболее велика Тыс. га 1 б

Объясни почему? 2 б

.....

.....

.....

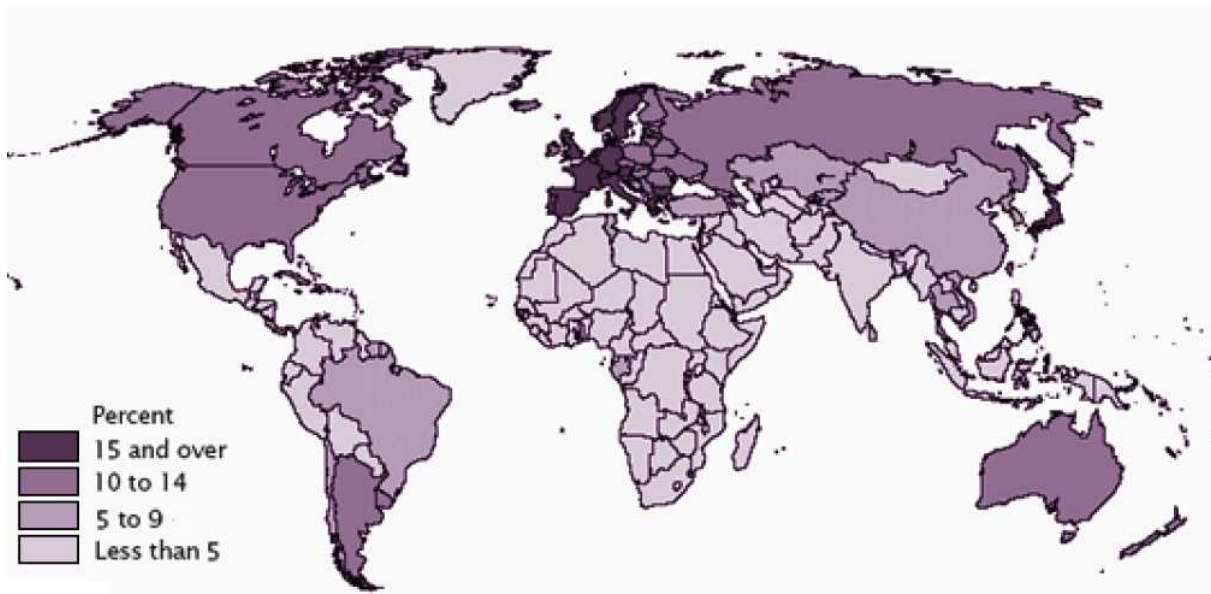


14. О каких государствах идет речь? 2 б

а) В сентябре 2010 г. В этой стране открыли крупнейший морской ветряной парк, который при оптимальных погодных условиях может обеспечить электричеством 240 000 домовладений. Всего в стране 250 ветряных парков.

б) В 2010 году ВВП этой страны вырос на 10%, и, согласно прогнозам, в 2020 году на нее будет приходиться 18% мирового производства.

.....



15. Значения какого демографического показателя отражает эта карта?

..... 1 б

Назови государства, и укажи социальные последствия низкого или высокого значения этого показателя для страны. 4 б

Показатель	Государство	Социальные последствия
Ниже 5%		
Выше 15%		

Всего 55 баллов

Всего 55 баллов